


CAIET DE VACANȚĂ

PENTRU CLASA I



A sosit vacanța mare!	3
Vacanța mare	4
Adevărata bogăție	10
Fiii	15
Obstacolul din drum	22
Legenda pădăiei	28
Cum au fost domesticite animalele	36
Uliul și găinile	47
Într-o zi pe când lucram	54
Darul Mamei Natură	63
Cei trei cercetători	69
Pomișorii	73
Să descifrăm!	81
Proverbul corect	82
Să dezlegăm!	83





A sosit vacanța mare!

*Caietul acesta
În vacanță te-nsoteste,
Prin imagini și cuvinte
De bine te sfătuiește.*

*În loc să apeși butonul
Calculatorul să-l pornești,
Deschide caietul îndată
Și-o lume minunată găsești.*

*Caietul este doar al tău,
E bine să-l prețuiești,
El nu te ve lăsa, fii sigur,
În timpul liber să te plictisești.*



1. Aranjează în ordine alfabetică cuvintele care se potrivesc cu vacanța mare

bucurii, libertate, plăcere, jocuri, soare, plajă, apă, brazi, căldură, distracție

2. Încercuiește în careu cuvintele de mai jos.

MARE
MUNTE
SOARE
BUNICI
JOCURI
IULIE
AUGUST
CÂNTEC

A	W	X	B	G	H	L
U	B	I	U	L	I	E
G	C	A	N	T	E	C
U	P	R	I	M	S	S
S	J	O	C	U	R	I
T	U	T	I	N	V	X
M	A	R	E	T	Y	Z
S	O	A	R	E	E	C




3. Dezleagă ghicitoarea și apoi încercuiește varianta corectă.

Soarele dogorește,
 Teiul înflorește,
 Grâul este aurit,
 Cine a sosit?
 ()

- ★ Câte cuvinte alcătuite din 5 sunete sunt în ghicitoarea dată?
 a) 4; b) 3; c) 5; d) 6.
- ★ Cuvântul care are 4 silabe este:
 a) soarele; b) aurit; c) grâul; d) dogorește.
- ★ Cuvântul care are 4 litere și 3 sunete este:
 a) aurit; b) soarele; c) cine; d) teiul.



4. Vacanța înseamnă călătorii. Ce obișnuiești să iei cu tine în bagaj? Scrie denumirile a două obiecte pe care le iei cu tine într-o călătorie.



5. În fiecare cuvânt s-a ascuns câte un nume de băiețel sau de fetiță. Scrie-l.

bradul

poiana

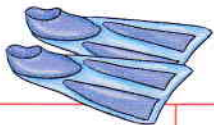
banca

avion

Ion

furnică

6. Printre lucrurile pe care le folosești în timpul liber s-au ascuns și cuvintele unei propoziții. Descoperă propoziția și numerotează ordinea cuvintelor.



vacanță



venit



mare



A

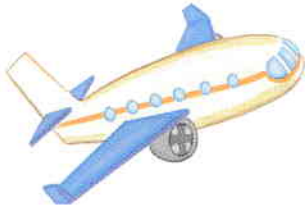


așteptata



mult

7. Cu ce poți călători mai repede în vacanță? Încercuiește varianta corectă din fiecare pereche.




motocicleta – autobuzul

bicicleta – căruța

trenul – avionul

vaporul – trenul



8. Găsește locul potrivit pentru cuvintele date, astfel încât să obții numărători folosite de copii în diferite jocuri.

a) Unu, doi,

Stai cu _____,

Trei, patru,

Hai la _____,

Cinci, șase, șapte,

Hai să bem cafea cu _____,

Opt, nouă, zece,

El să _____.

(plece, lapte, teatru, noi)

b) Domnișoară _____,

Ce ascunzi tu, sub _____?

Bombonele _____,

Șoricei _____,

Sau e prăjitura _____?

leși afară _____.

(lăbuță, dumneata, mea, mititele, bunicei, pisicuță)

9. Dezleagă rebusul și vei afla ce așteaptă copiii cu nerăbdare.

1. Anotimp călduros.

2. O apă cu plajă, unde mergi vara.

3. Deplasare în grup cu autocarul.

4. Plămânu verde al pământului.

5. Părinții tatălui.

6. Merge pe sine.

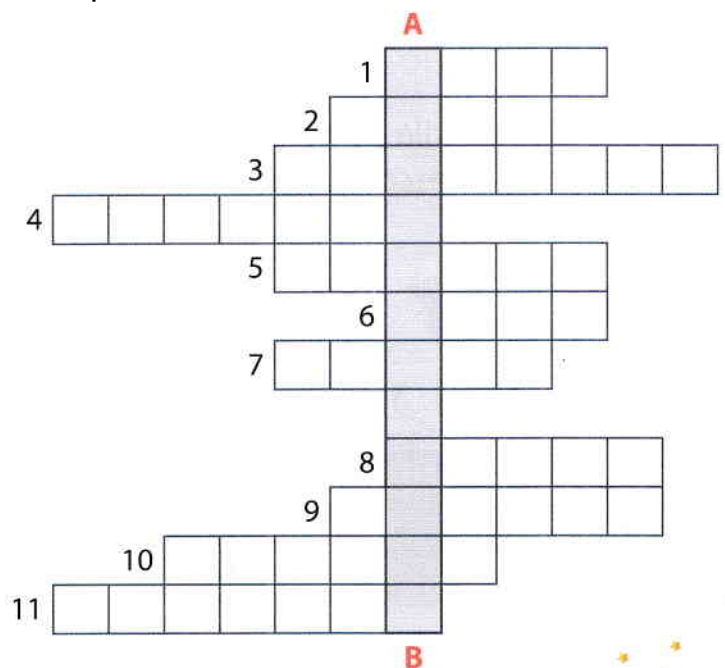
7. Strălucește ziua pe cer.

8. Mai înalt decât dealul.

9. Casa vânătorului.


10. Potecă din pădure.

11. Câțelul și pisica sunt...







14. Când pescărușul a scris exercițiul pe nisip, valul a șters o cifra. Descoper-o rezolvând exercițiul.

$$31 + 28 - \square + 3 + 13 = 29$$



15. Adrian a găsit pe nisip câteva desene hazlii. Scrie cifrele pe care le recunoști în fiecare situație (o singură dată, chiar dacă se repetă).



16. La malul mării sunt 4 vapoare de patru culori: **roșu**, **galben**, **albastru**, **verde**. Acestea sunt așezate astfel:

- ★ Vaporul **galben** nu este nici primul, nici ultimul;
- ★ Vaporul **verde** nu este lângă cel **albastru**. Primul vapor este **albastru**.
- ★ Vaporul **roșu** este lângă cel **verde**.

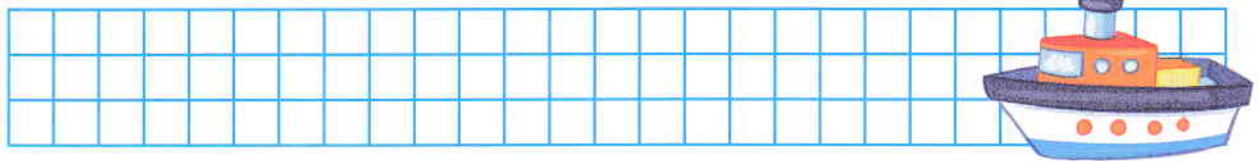
Care este ordinea celor patru vapoare? Alege varianta corectă dintre cele de mai jos.

- a) albastru, verde, roșu, galben;
- b) albastru, galben, verde, roșu;
- c) verde, albastru, roșu, galben;
- d) albastru, roșu, galben, verde.

17. Bunicul are vârsta formată dintr-un număr mai mare decât 80 și mai mic decât 90, cu cifra unităților 4. Ce vârstă are bunicul?

- a) 82; b) 84; c) 48; d) 94.

18. Un vapor are mai multe încăperi. Dacă la numărul încăperilor pe care le are mai adăugăm 17, apoi scădem cel mai mic număr impar format din 2 cifre, obținem 26. Numărul încăperilor este:



- a) 19; b) 20; c) 21; d) 22.

19. Vara, la munte plouă mai des. Picăturile de apă sunt multe. Colorează cu **roșu** picătura cu cel mai mare număr și cu **albastru** picătura cu cel mai mic număr. Care este diferența dintre ele?




--	--	--	--	--	--	--	--	--	--	--	--	--	--	--	--	--	--	--	--	--

- a) 54; b) 88; c) 90; d) 91.

20. Telecabina a efectuat azi două călătorii cu câte 19 călători de fiecare dată și o călătorie cu 27 călători. Câți călători au urcat cu telecabina?

--	--	--	--	--	--	--	--	--	--	--	--	--	--	--	--	--	--	--	--	--

- a) 59; b) 61; c) 62; d) 65.





Adevărata bogăție de Cosmina Ioniță

Într-o bună zi, tatăl unei familii înstărite hotărî să-și ducă fiul într-o călătorie pentru a-i arăta cât de bogați sunt ei și felul în care trăiesc oamenii simpli. Tatăl și fiul petrecură mai multe zile și nopți la ferma unei familii sărace.

Întorși acasă, tatăl își întrebă fiul:

- Ei bine, fiule, cum ți s-a părut călătoria?
- O! A fost extraordinar, tată!
- Ai văzut cât de săraci sunt unii oameni? întrebă tatăl.

Fiul îi răspunse:

– Am văzut că noi avem un câine și ei au patru. Noi avem o piscină, ei au un iaz uriaș. Noi avem becuri în grădină, ei au stelele nopții. Noi avem o bucată de pământ, ei au câmpuri largi ce se întind până dincolo de orizont. Noi avem servitori, iar ei îi servesc pe alții. Noi ne cumpărăm mâncarea, ei o cultivă. Noi avem ziduri care ne apară proprietatea, ei au prieteni care îi ocrotesc.

La auzul vorbelor fiului său, tatăl rămase încremenit. Fiul adăugă:

- Tată, îți mulțumesc că mi-ai arătat cât de săraci suntem!

1. Încercuiește litera corespunzătoare răspunsului corect.

★ Tatăl și fiul petrecură mai multe zile:

- a) într-un parc de distracție;
- b) într-un oraș mare;
- c) la mare;
- d) la ferma unei familii sărace.

★ Băiatul a învățat din această călătorie că:

- a) prin muncă și stăruință, vei ajunge la dorință;
- b) socoteala de-acasă nu se potrivește cu cea din târg;
- c) prietenii, bunătatea și libertatea sunt adevăratele comori ale vieții;
- d) de cine nu învață, relele s-agață.



2. Încercuiește cuvântul potrivit pentru a completa următoarea propoziție:

– Tată, îți mulțumesc că mi-ai arătat cât de suntem!

- a) bogați;
- b) prieteni;
- c) săraci;
- d) dușmani.

3. Cu ajutorul cuvintelor: **auzul, la, vorbelor, fiului, tatăl, său, încremenit, rămase** se poate forma propoziția:

- a) Tatăl rămase încremenit.
- b) La auzul vorbelor tatălui fiul rămase încremenit.
- c) La vorbele fiului tatăl rămase încremenit.
- d) La auzul vorbelor fiului său, tatăl rămase încremenit.

4. Care este înțelesul cuvântului **înstărite** din propoziția **Tatăl unei familii înstărite hotărî... ?**

- a) sărace;
- b) simple;
- c) bogate;
- d) cunoscute.

5. Care dintre următoarele cuvinte nu sunt formate din 3 silabe?

familii, înstărite, hotărî, călătorie, oamenii, sărace, acasă, întrebă

- a) familii, hotărî;
- b) înstărite, călătorie;
- c) oamenii, sărace;
- d) acasă, întrebă.

6. Ordonând silabele, descoperă câteva dintre calitățile băiatului din textul dat:

teț is

as tă cul tor

dest mo

te e pri nos

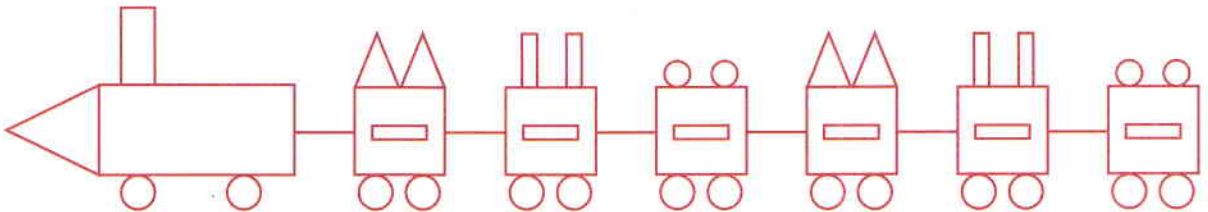
7. Transcrie din text patru cuvinte care se termină cu litera **i**.



8. Scrie din text trei cuvinte care încep sau se termină cu litera **î** și alcătuește câte o propoziție cu fiecare.

Handwriting practice lines consisting of multiple sets of three horizontal lines (top solid, middle dashed, bottom solid).

9. Tatăl și fiul au plecat în călătorie cu trenul. Scrie numărul total al fiecărei figuri geometrice din care este alcătuit trenul.



10. Scrie răspunsul la întrebare.

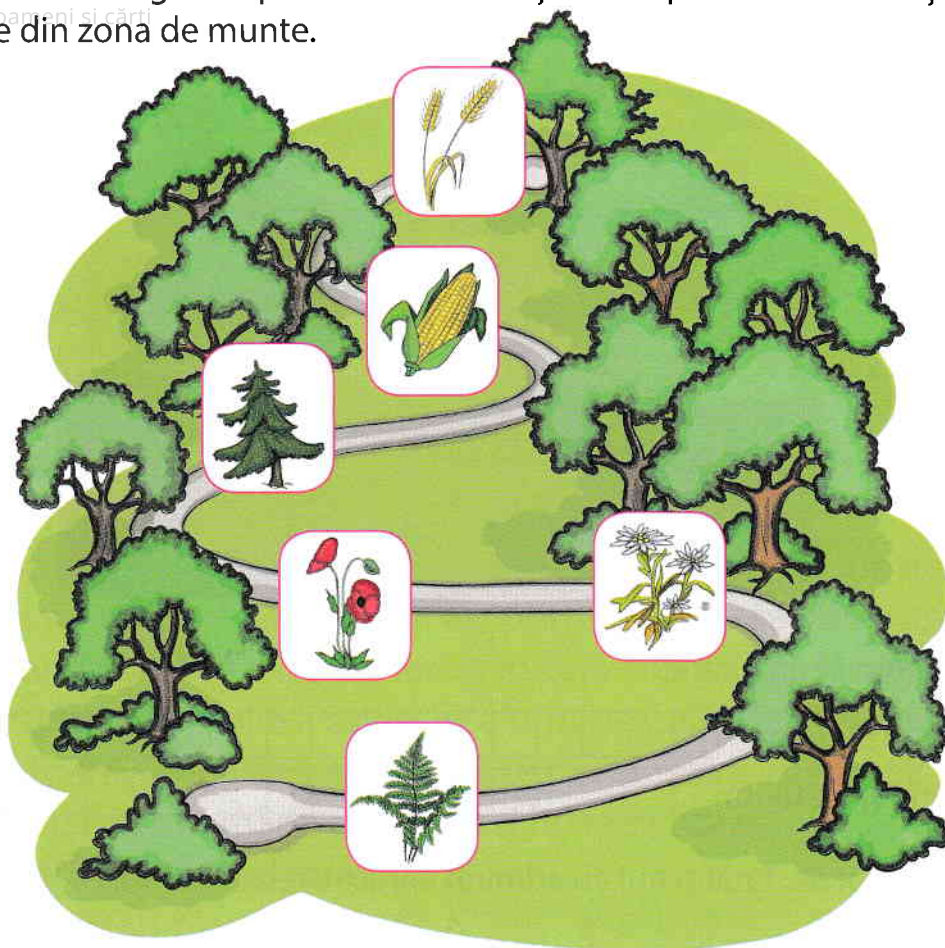
Niște iepurași, acum,
Au pornit, în șir, la drum.
Unu-n frunte, doi în spate,
Între ei unu-i desparte.
Unu-n coada șirului,
Doi merg chiar în fața lui.
Răspunde la întrebare,
Câți iepurași sunt oare?



R: _____



11. Drumul din imagine e presărat cu o mulțime de plante. Încercuiește-le numai pe cele din zona de munte.



12. Alege varianta potrivită și rezolvă fiecare problemă, dacă este posibil.

★ Tatăl și fiul au plecat în călătorie la ora 8 și au ajuns la destinație seara. Câte ore a durat călătoria? Încercuiește varianta corectă.

a) Se poate rezolva astfel: _____

b) Nu se poate rezolva pentru că: _____

★ Cei doi au petrecut la fermă o săptămână și 3 zile. Câte zile au petrecut la fermă?

a) Se poate rezolva astfel: _____

b) Nu se poate rezolva pentru că: _____

13. Băiatul s-a urcat pe cântar cu un rucsac în mână și cântarul indica 31 de kg. Dacă ar fi pus rucsacul în spate, câte kg ar fi indicat cântarul?

a) mai mult;

b) mai puțin;

c) la fel.